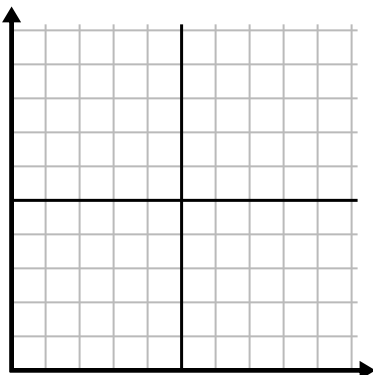




Remplissez la grille à l'aide du graphique.

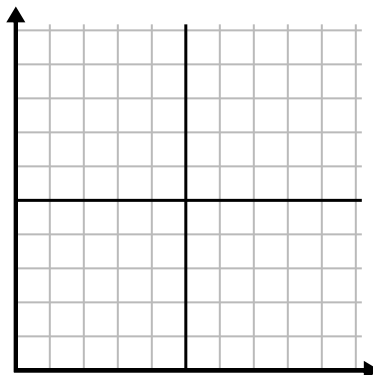
1)

Jour	1	2	3	4	5
Argent dépensé	8	7	9	6	3



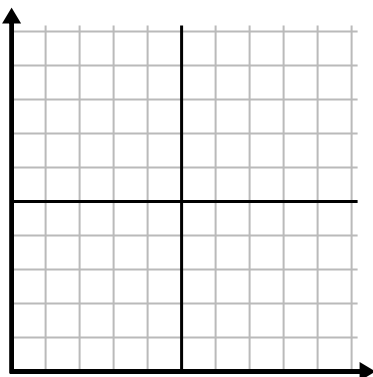
2)

Jour	1	2	3	4	5	6	7
Repas vendus	900	300	200	400	1 000	800	700



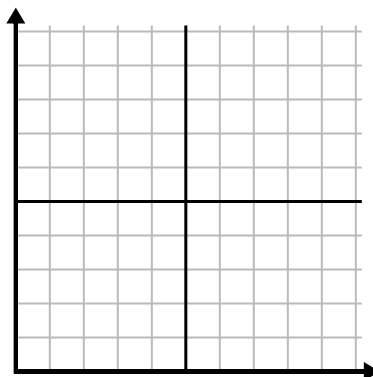
3)

Heure	1	2	3	4	5
Montant vendu	8	2	1	3	6



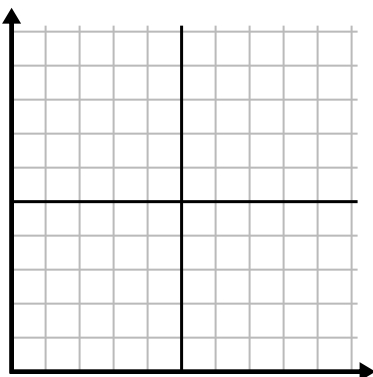
4)

Mois	1	2	3	4	5
Prix de la facture d'électricité	175	150	25	50	200



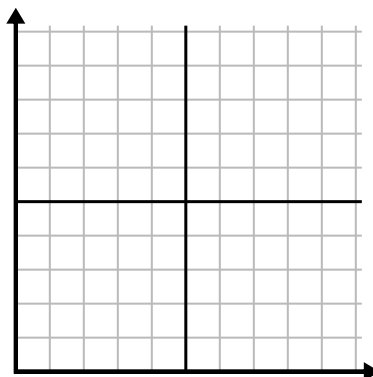
5)

Jour	1	2	3	4	5
Textes envoyés	35	20	5	30	10



6)

La semaine	1	2	3	4	5	6	7
Heures de télévision regardées	10	25	20	45	30	40	50

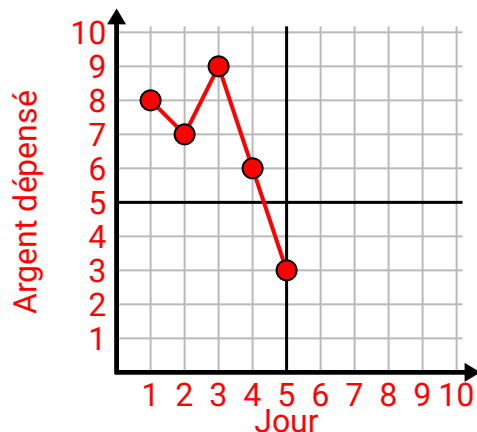




Remplissez la grille à l'aide du graphique.

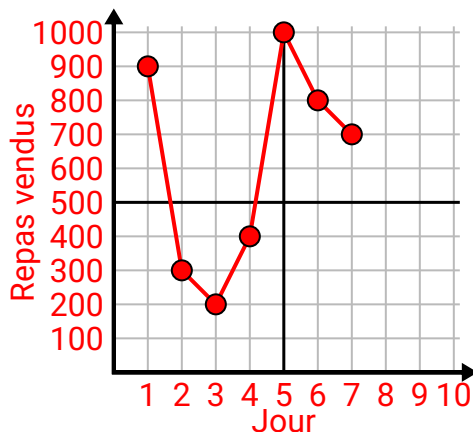
1)

Jour	1	2	3	4	5
Argent dépensé	8	7	9	6	3



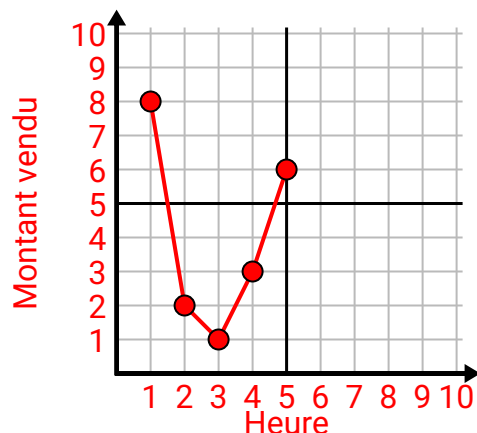
2)

Jour	1	2	3	4	5	6	7
Repas vendus	900	300	200	400	1 000	800	700



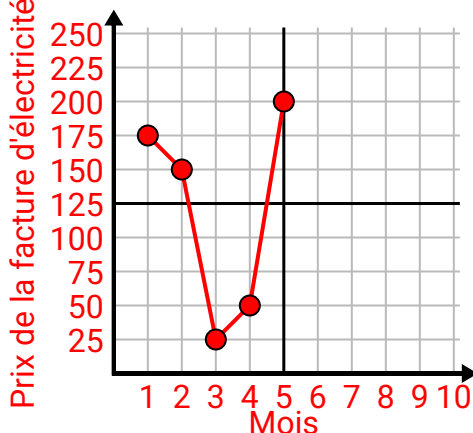
3)

Heure	1	2	3	4	5
Montant vendu	8	2	1	3	6



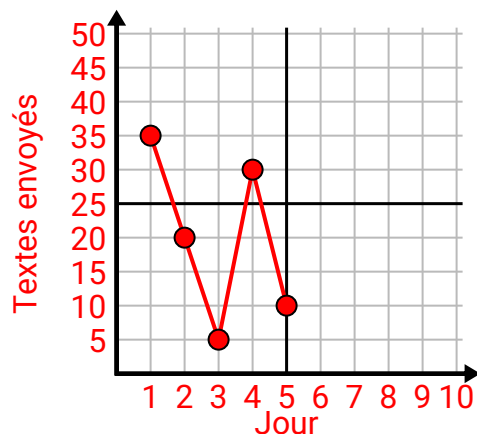
4)

Mois	1	2	3	4	5
Prix de la facture d'électricité	175	150	25	50	200



5)

Jour	1	2	3	4	5
Textes envoyés	35	20	5	30	10



6)

La semaine	1	2	3	4	5	6	7
Heures de télévision regardées	10	25	20	45	30	40	50

