



Utilisez la grille pour résoudre chaque problème.



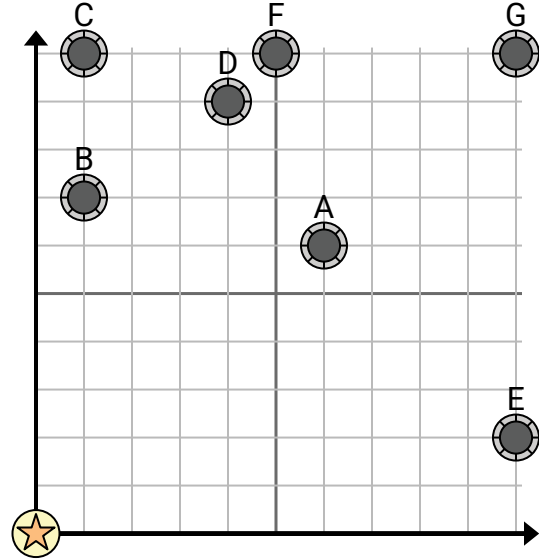
= bien



= Château d'eau



= 1 Square Mile



1) Une nouvelle loi dit que vous ne pouvez pas construire un puits à moins de 2 milles d'un puits préexistant. Si vous vouliez construire un puits à {_EST_} milles à l'est et 8 milles au nord du château d'eau, en auriez-vous le droit ?

2) Quel puits est le plus proche du château d'eau ?

3) Quel puits est le plus éloigné du château d'eau ?

4) Quel puits est plus loin east ? Eh bien A ou bien B ?

5) Si vous deviez aller à {_EST_} milles à l'est et 10 milles au nord du château d'eau, à quel puits vous retrouveriez-vous ?

Réponses

1. _____
2. _____
3. _____
4. _____
5. _____
6. _____
7. _____
8. _____
9. _____
10. _____

6) Un nouveau navire voulait pêcher, mais le capitaine voulait s'assurer qu'ils se trouvaient à au moins 2 milles d'un autre navire. S'il naviguait 10 milles à l'est et 5 milles au nord, cet endroit lui conviendrait-il ?

7) Quel navire est le plus proche de la bouée ?

8) Quel navire est le plus éloigné de la bouée ?

9) Quel navire est plus loin south ? Expédier D ou expédier E ?

10) Quel navire se trouve à 10 milles à l'est et 5 milles au nord de la bouée ?



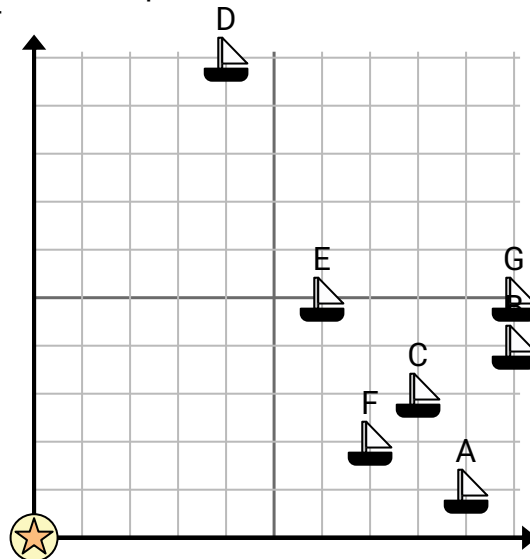
= Bateau



= Bouée



= 1 Square Mile





Utilisez la grille pour résoudre chaque problème.



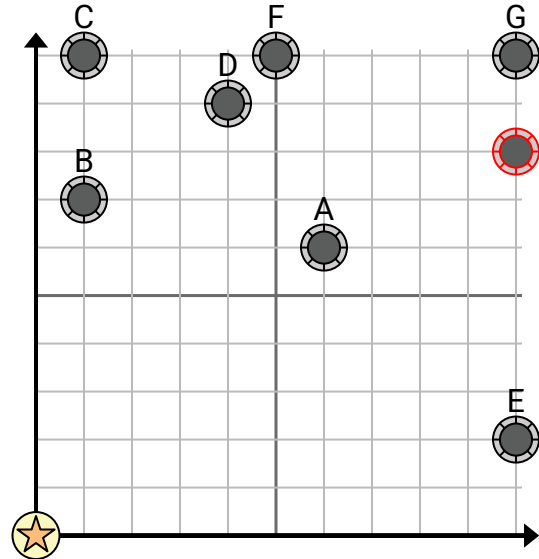
= bien



= Château d'eau



= 1 Square Mile



- 1) Une nouvelle loi dit que vous ne pouvez pas construire un puits à moins de 2 milles d'un puits préexistant. Si vous vouliez construire un puits à {_EST_} milles à l'est et 8 milles au nord du château d'eau, en auriez-vous le droit ?
- 2) Quel puits est le plus proche du château d'eau ?
- 3) Quel puits est le plus éloigné du château d'eau ?
- 4) Quel puits est plus loin east ? Eh bien A ou bien B ?
- 5) Si vous deviez aller à {_EST_} milles à l'est et 10 milles au nord du château d'eau, à quel puits vous retrouveriez-vous ?

Réponses

1. **oui**
2. **B**
3. **G**
4. **A**
5. **G**
6. **non**
7. **F**
8. **G**
9. **E**
10. **G**

- 6) Un nouveau navire voulait pêcher, mais le capitaine voulait s'assurer qu'ils se trouvaient à au moins 2 milles d'un autre navire. S'il naviguait 10 milles à l'est et 5 milles au nord, cet endroit lui conviendrait-il ?



= Bateau



= Bouée

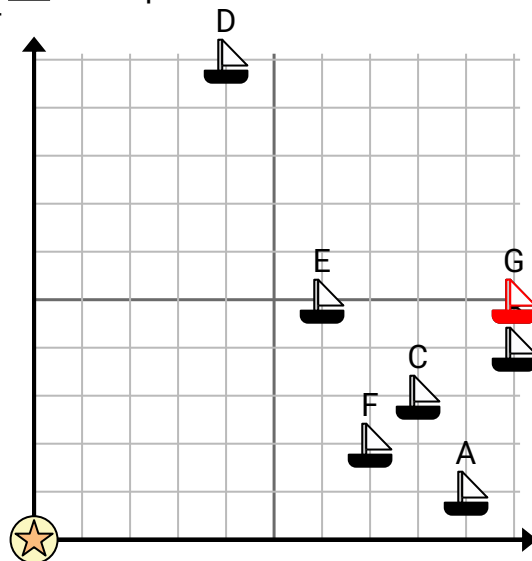


= 1 Square Mile

- 7) Quel navire est le plus proche de la bouée ?

- 8) Quel navire est le plus éloigné de la bouée ?

- 9) Quel navire est plus loin south ? Expédier D ou expédier E ?



- 10) Quel navire se trouve à 10 milles à l'est et 5 milles au nord de la bouée ?