



Faire correspondre le décompte aux graphiques à barres Nom:

Associez chaque tableau au graphique approprié.

Réponses

1)

Nom	Canettes recyclées
Allen	4
Beth	3
Meule	4
Andréa	2
Vallée	8

2)

Nom	Canettes recyclées
Allen	9
Beth	6
Meule	4
Andréa	2
Vallée	6

3)

Nom	Canettes recyclées
Allen	9
Beth	4
Meule	10
Andréa	6
Vallée	3

4)

Nom	Canettes recyclées
Allen	4
Beth	3
Meule	4
Andréa	2
Vallée	8

5)

Nom	Canettes recyclées
Allen	9
Beth	6
Meule	4
Andréa	2
Vallée	6

6)

Nom	Canettes recyclées
Allen	9
Beth	4
Meule	10
Andréa	6
Vallée	3

1. _____

2. _____

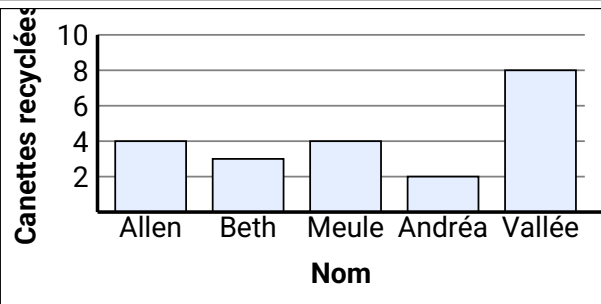
3. _____

4. _____

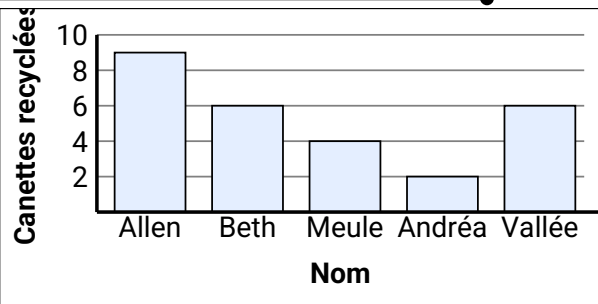
5. _____

6. _____

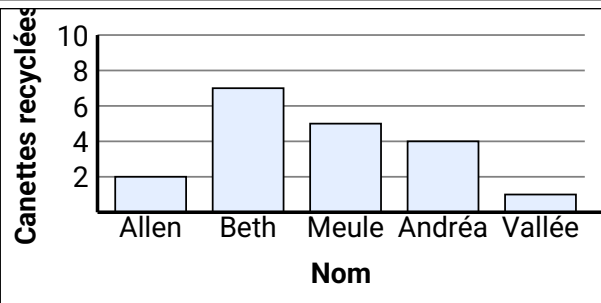
A.



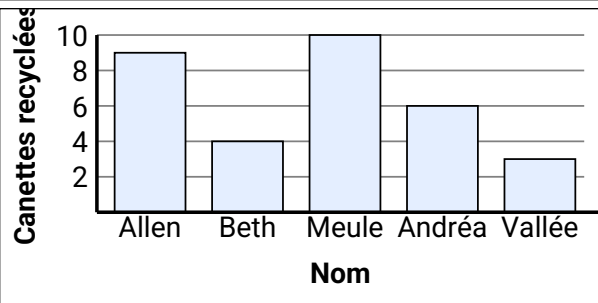
B.



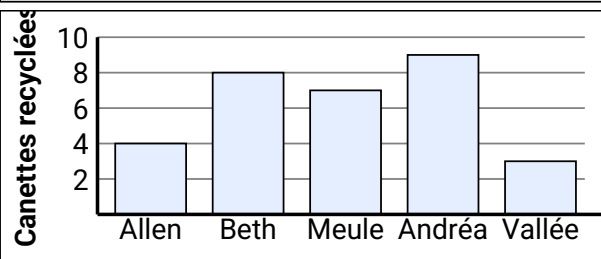
C.



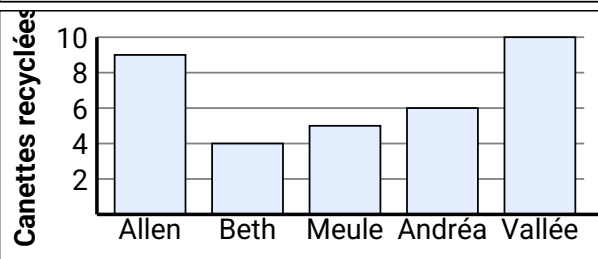
D.



E.



F.





Faire correspondre le décompte aux graphiques à barres Nom: **Clé**

Associez chaque tableau au graphique approprié.

Réponses

1)

Nom	Canettes recyclées
Allen	4
Beth	3
Meule	4
Andréa	2
Vallée	8

2)

Nom	Canettes recyclées
Allen	9
Beth	6
Meule	4
Andréa	2
Vallée	6

3)

Nom	Canettes recyclées
Allen	9
Beth	4
Meule	10
Andréa	6
Vallée	3

4)

Nom	Canettes recyclées
Allen	4
Beth	3
Meule	4
Andréa	2
Vallée	8

5)

Nom	Canettes recyclées
Allen	9
Beth	6
Meule	4
Andréa	2
Vallée	6

6)

Nom	Canettes recyclées
Allen	9
Beth	4
Meule	10
Andréa	6
Vallée	3

1. **B**

2. **A**

3. **E**

4. **F**

5. **C**

6. **D**

